

# ВАРИАНТЫ ЭКЗАМЕНАЦИОННЫХ РАБОТ

## ВАРИАНТ 1

### Часть 1

При выполнении заданий 1–22 в поле ответа запишите одну цифру, которая соответствует номеру правильного ответа.

- 1 Владимир Мономах был великим киевским князем в  
1) X в.            2) XI в.            3) XII в.            4) XIII в.

Ответ:

- 2 В первой четверти XIV в. московские князья вели борьбу за лидерство в Северо-Восточной Руси с  
1) Новгородом            2) Рязанью            3) Тверью            4) Смоленском

Ответ:

- 3 Укажите военные победы, благодаря которым удалось предотвратить захват западными завоевателями русских земель.

- 1) битва на реке Неве и Ледовое побоище  
2) Грюнвальдская битва и битва на реке Шелони  
3) битва на реке Альте и битва на реке Калке  
4) битва на реке Воже и Куликовская битва

Ответ:

- 4 Прочтите отрывок из сочинения историка и укажите, под каким названием вошло в историю правительство, о котором идёт речь.

«О начале правления Ивана можно даже сказать, что это была самодержавная монархия «с человеческим лицом», благодаря реформам правительства, возглавляемого Адашевым и Сильвестром. За десять лет своего пребывания у власти правительство это провело столько реформ, сколько не знало никакое другое десятилетие в истории средневековой России. Правда, предпосылки реформаторской деятельности складывались ещё до выхода Адашева и Сильвестра на историческую сцену».

- 1) Совет всей земли            3) Приказ тайных дел  
2) Избранная рада            4) Ближняя дума

Ответ:

- 5 Какое из указанных событий военной истории произошло раньше остальных?

- 1) Бородинское сражение            3) взятие крепости Измаил  
2) Синопское сражение            4) битва у д. Лесной

Ответ:

- 6 Общим в программных документах Северного и Южного обществ декабристов было положение об (о)

- 1) освобождении крестьян от крепостной зависимости  
2) установлении республики  
3) наделении крестьян землёй за счёт изъятия земли у помещиков  
4) создании федеративного государства

Ответ:

7

- Одним из итогов судебной реформы 1864 г. стало введение
- 1) контроля над судом со стороны административных властей
  - 2) сословного принципа судопроизводства во всех инстанциях
  - 3) военно-полевых судов
  - 4) гласности и состязательности судопроизводства

Ответ: 

8

Прочтите фрагмент из исторического документа и укажите название этого документа.

«На обязанность правительства возлагаем МЫ выполнение непреклонной НАШЕЙ воли:

1. Даровать населению незыблемые основы гражданской свободы на началах действительной неприкосновенности личности, свободы совести, слова, собраний и союзов. <...>

3. Установить, как незыблемое правило, чтобы никакой закон не мог воспринять силу без одобрения Государственной Думы, и чтобы выборным от народа обеспечена была возможность действительного участия в надзоре за законностью действий поставленных от НАС властей.

Призываем всех верных сынов России вспомнить долг свой перед Родиною, помочь прекращению сей неслыханной смуты и вместе с НАМИ напрячь все силы к восстановлению тишины и мира на родной земле».

- 1) Приказ № 1 Петросовета
- 2) Манифест «Об усовершенствовании государственного порядка»
- 3) Манифест «О незыблемости самодержавия»
- 4) «Декларация прав трудящегося и эксплуатируемого народа»

Ответ: 

9

Успешные военные действия русской армии против Пруссии в ходе Семилетней войны были прекращены по повелению

- 1) императора Петра II
- 2) императрицы Анны Иоанновны
- 3) императрицы Елизаветы Петровны
- 4) императора Петра III

Ответ: 

10

Укажите, какое из перечисленных литературных произведений посвящено описанию события, относящегося к XIV в.

- 1) «Сказание о Мамаевом побоище»
- 2) «Повесть о разорении Рязани Батыем»
- 3) «Хождение за три моря»
- 4) «Слово о полку Игореве»

Ответ: 

11

Белая армия под командованием П.Н. Врангеля была разгромлена в Крыму в

- 1) 1918 г.
- 2) 1919 г.
- 3) 1920 г.
- 4) 1921 г.

Ответ: 

12

Новая экономическая политика (нэп) допускала

- 1) создание бирж труда
- 2) передачу в частную собственность крупных промышленных предприятий
- 3) выкуп сельскохозяйственных угодий в частную собственность
- 4) выход на внешний рынок частных торговцев

Ответ:

- 13** Искключение СССР из Лиги Наций накануне Великой Отечественной войны стало следствием
- 1) отказа советского правительства признать Мюнхенское соглашение
  - 2) участия советских военных специалистов в гражданской войне в Испании
  - 3) нападения на Финляндию
  - 4) участия в вооружённом конфликте на Халхин-Голе
- Ответ:

- 14** Премьер-министр Англии Клемент Эттли возглавлял делегацию своей страны на
- 1) Московской конференции 1941 г.
  - 2) Тегеранской конференции 1943 г.
  - 3) Крымской конференции 1945 г.
  - 4) Потсдамской конференции 1945 г.
- Ответ:

- 15** Прочтите отрывок из исторического источника и укажите, когда происходили описанные события.

«Я помню день, когда народы мира — в Европе и за океаном — услышали сообщение, потрясшее умы, опрокинувшее обычное представление о возможном и невозможном, затмившее всё, что знали в истории войн о доблести солдат и мудрости полководцев. Русские на Волге перешли в наступление.

Далёким наблюдателям это казалось невероятным. Считалось, что даже оборона города есть чудо, и советские войска, державшие подступы к Волге, пережили тот предел сверхмерного напряжения, за которым силы человеческого истощаются. Большого от человека, самого отважного, самого стойкого, ждать нельзя. И вот, прижатые к Волге, окружённые, стиснутые со всех сторон дивизии переходят от обороны к решительному наступлению, берут гитлеровцев в кольцо, грозят раздавить всю армию фельдмаршала фон Паулюса».

- 1) декабрь 1941 г.    2) ноябрь 1942 г.    3) июль 1943 г.    4) июнь 1944 г.

Ответ:

- 16** Какое из названных событий произошло раньше остальных?
- 1) подписание Заключительного акта Совещания по безопасности и сотрудничеству в Европе
  - 2) образование Совета экономической взаимопомощи
  - 3) «Пражская весна»
  - 4) создание Организации Варшавского договора
- Ответ:

- 17** В период «перестройки» появился новый государственный пост —
- 1) Спикера Государственной Думы
  - 2) Председателя Совета министров СССР
  - 3) Председателя Президиума Верховного Совета СССР
  - 4) Президента СССР
- Ответ:

18

Прочтите отрывок из исторического источника и укажите государственно-го деятеля, о котором идёт речь.

«Вернувшись в свою квартиру на Староконюшенном переулке Арбата, он сказал домашним: “Ну вот, теперь я в отставке. Может быть, самое главное из того, что я сделал, заключается в том, что они смогли меня снять простым голосованием, тогда как Сталин велел бы их всех арестовать”».

- 1) Ю.В. Андропов  
2) М.С. Горбачёв  
3) Н.С. Хрущёв  
4) Л.И. Брежнев

Ответ:

19

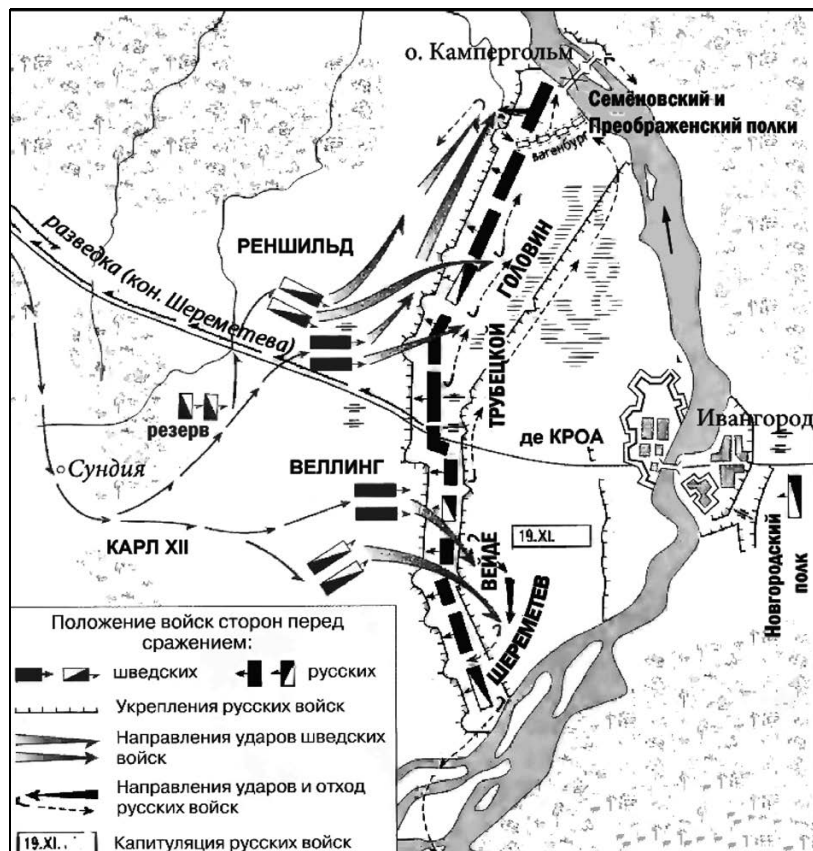
Министром иностранных дел, опубликовавшим документ («ноту»), содержащий заверение в готовности Временного правительства «довести мировую войну до решающей победы», был

- 1) А.Ф. Керенский  
2) В.М. Чернов  
3) П.Н. Милюков  
4) Г.В. Чичерин

Ответ:

20

Рассмотрите схему.



Изображённые на схеме события происходили в

- 1) 1700 г.      2) 1704 г.      3) 1708 г.      4) 1709 г.

Ответ:

21


Одним из ведущих советских авиаконструкторов был

- 1) Н.И. Вавилов  
2) А.Н. Туполев  
3) И.В. Курчатов  
4) М.И. Кошкин

Ответ:

22

Рассмотрите изображение и выполните задание.



Данная театральная афиша связана с деятельностью и творчеством

- 1) С.П. Дягилева, И.Ф. Стравинского
- 2) В.Э. Мейерхольда, Е.Б. Вахтангова
- 3) М.Н. Ермоловой, В.И. Качалова
- 4) К.С. Станиславского, В.И. Немировича-Данченко

Ответ:

**Задания 23–30 требуют ответа в виде цифры, последовательности цифр или слова (словосочетания), которые следует записать в поле ответа в тексте работы. Имена российских государей следует писать только буквами (например: Николай Второй).**

23

Расположите следующие внешнеполитические события древнерусской истории в хронологическом порядке. Запишите цифры, которыми обозначены внешнеполитические события в правильной последовательности в таблицу.

- 1) заключение первого письменного русско-византийского договора
- 2) организация походов против половцев
- 3) разгром Хазарского каганата
- 4) окончательный разгром печенегов

Ответ:

--	--	--	--

24

Установите соответствие между правителями и территориями, вошедшими в состав Российского государства в эпоху их царствования: к каждому элементу первого столбца подберите соответствующий элемент из второго столбца.

## ПРАВИТЕЛИ

- А) Алексей Михайлович  
 Б) Пётр I  
 В) Екатерина II

ТЕРРИТОРИИ,  
ВОШЕДШИЕ В СОСТАВ РОССИИ

- 1) Балтийское побережье от Выборга до Риги  
 2) Среднее и Нижнее Поволжье  
 3) Левобережная Украина  
 4) Северное Причерноморье

Запишите в таблицу выбранные цифры под соответствующими буквами.

Ответ:	А	Б	В

25

Какие события политической истории СССР относятся к 1930-м гг.?

Найдите в приведённом ниже списке два события и запишите в таблицу цифры, под которыми они указаны.

- 1) убийство С.М. Кирова  
 2) назначение И.В. Сталина Генеральным секретарём ЦК РКП(б)  
 3) подавление Кронштадтского восстания  
 4) принятие первой Конституции СССР  
 5) проведение открытых политических процессов над «врагами народа»

Ответ:		
--------	--	--

26

Используя данные статистической таблицы, завершите представленные ниже суждения, соотнеся их начала и варианты завершения.

*Государственный бюджет России в годы Крымской войны*

Год	1853	1854	1855
Поступило доходов (тыс. руб.)	227 471	242 380	261 504
Исполнено расходов (тыс. руб.)	336 298	389 312	544 139

## НАЧАЛА СУЖДЕНИЙ

- А) В годы Крымской войны быстрее росли  
 Б) Расходы государственного бюджета примерно в 2 раза превзошли доходы  
 В) Превышение расходов над доходами было минимальным

ВАРИАНТЫ  
ЗАВЕРШЕНИЯ СУЖДЕНИЙ

- 1) в 1853 г.  
 2) в 1854 г.  
 3) расходы государственного бюджета  
 4) в 1855 г.  
 5) доходы государственного бюджета

Запишите в таблицу выбранные цифры под соответствующими буквами.

Ответ:	А	Б	В

27

Запишите аббревиатуру, обозначающую блок, о котором идёт речь.  
«Крупнейший в мире военно-политический блок, объединяющий большинство стран Европы, США и Канаду. Основан 4 апреля 1949 г. в США».

Ответ: \_\_\_\_\_ .

28


Сравните внутреннюю политику императоров Петра I и Николая I в области государственного управления. Выберите и запишите в первую колонку таблицы порядковые номера черт сходства, а во вторую — порядковые номера черт различия.

- 1) сосредоточение всех вопросов управления страной в руках императора
- 2) создание нового единого Свода законов страны
- 3) учреждение Сената с законодательными функциями
- 4) увеличение численности бюрократического аппарата

Черты сходства		Черты различия	

29

Запишите слово, пропущенное в схеме.



Ответ: \_\_\_\_\_ .

30

Ниже приведён перечень терминов. Все они, за исключением одного, относятся к периоду 1920-х гг.

1) комбеды; 2) нэпманы; 3) золотой червонец; 4) продналог; 5) концессии.

Найдите и запишите порядковый номер термина, «выпадающего» из данного ряда.

Ответ: \_\_\_\_\_ .

## Часть 2

Для ответов на задания этой части (31–35) используйте отдельный лист. Запишите сначала номер задания (31, 32 и т.д.), а затем ответ к нему. Ответы записывайте чётко и разборчиво.

Прочитайте фрагмент исторического источника и выполните задания 31, 32. Используйте в ответах информацию текста, а также знания из курса истории.

### *Из сочинения историка*

«В Рязанских землях было сформировано первое ополчение. Однако его деятельность не привела к изгнанию интервентов. Центром освободительного движения с осени 1611 г. стал Нижний Новгород.

Героями, ставшими теперь во главе народного движения за освобождение страны, явились два представителя разных сословий, которых объединяла любовь к Родине. Нижегородский земский староста — торговый человек... обратился к жителям города с призывом помочь всеми силами и средствами в создании нового народного ополчения для освобождения России от иноземных захватчиков. Он первым пожертвовал немалые деньги. Его примеру последовали многие купцы и состоятельные люди. Тех, кто не желал добровольно делиться своим богатством, с одобрения схода жителей принуждали силой.

Прекрасно понимая, что своими силами нижегородцы не смогут одолеть многочисленных врагов, создатель нового народного ополчения стремился поднять на борьбу все русские земли. Он и его сподвижники стали рассылать грамоты с призывом к совместной борьбе. В Нижний Новгород стали стягиваться вооружённые отряды ополченцев со всех земель. Для объединённого войска нужен был твёрдый и решительный командующий, не запятнавший себя сотрудничеством с самозванцами и захватчиками. Выбор пал на князя... Ещё не оправившийся от ран, он принял предложение возглавить ополчение».

**31** Укажите название периода, о котором говорится в тексте. Назовите одного из героев, о которых идёт речь в отрывке.

**32** В первом абзаце отрывка найдите и запишите предложение, содержащее положение, которое можно обосновать фактами, содержащимися во втором и третьем абзацах. Укажите не менее двух фактов, приведённых в отрывке, которые могут служить для обоснования выписанного вами положения.

Задания 33–35 предусматривают разные виды деятельности: анализ исторической ситуации (33), сравнение исторических событий и явлений (34), составление плана ответа на данную тему (35). Выполняя эти задания, обращайте внимание на формулировку каждого вопроса.



**33**

Американский спортсмен готовился принять участие в летних Олимпийских играх, которые должны были пройти в Москве. Но за несколько месяцев до начала Олимпиады американское правительство заявило, что в связи с международным событием, продемонстрировавшим агрессивную внешнюю политику СССР, США не отправят свою команду в Москву. Годы тренировок для спортсмена были потрачены напрасно.

1. Укажите год, когда должны были пройти Олимпийские игры, о которых идёт речь.

2. Назовите фамилию руководителя СССР в этот период.

3. Укажите событие, в связи с которым правительство США приняло решение не отправлять команду в Москву.

**34**

Русско-турецкие войны 1853–1856 гг. и 1877–1878 гг. разделяет чуть более двух десятилетий. Тем не менее эти две войны серьёзно отличаются друг от друга. Приведите не менее двух фактов, подтверждающих эти отличия.

**35**

Вам поручено подготовить развёрнутый ответ по теме «Советская культура в 1917–1941 гг.». Составьте план, в соответствии с которым вы будете освещать эту тему.

План должен содержать не менее трёх пунктов. Напишите краткое пояснение содержания любых двух пунктов.

План с пояснениями должен отразить основные события (явления), связанные с темой «Советская культура в 1917–1941 гг.».

Если Вы затрудняетесь в составлении плана, который бы полностью раскрывал данную тему, то можете выбрать один из существенных вопросов (разделов, направлений, проблем) темы.

Напишите заголовок плана по выбранному Вами вопросу (разделу, направлению, проблеме) и составьте план, раскрывающий его содержание, соблюдая все требования к количеству пунктов плана и пояснений.